



Selecciona la ilustración que corresponde con lo que oyes.



A



B




C



D



E



F

1) _____

2) _____

3) _____

4) _____

Contesta las siguientes preguntas.

1. ¿Cuántas semanas hay en un año?
2. ¿Cuántos años hay en un siglo?
3. ¿Cuántas horas hay en un día?
4. ¿Cuántos cuartos de hora hay en una hora?
5. ¿Cuántos segundos hay en un minuto?
6. ¿Cuántos minutos hay en una hora?
7. ¿Cuántos segundos hay en una hora?
8. ¿Cuántas horas hay en una semana?

1) Hay cincuenta y dos semanas en un año.

2) _____

3) _____

4) _____

5) _____

6) _____

7) _____

8) _____